



## Concours d'accès à l'Ecole Nationale d'Architecture Juillet 2015

**Epreuve : QCM**

Durée : 1h

**IL EST PORTE A LA CONNAISSANCE DES CANDIDATS QUE :**

- Les réponses sont à reporter sur la feuille d'examen
- Chaque question vaut 1 point
- Une question peut avoir une (1), zéro (0) ou plusieurs réponses

**SYSTEME DE NOTAION :**

Pour chaque question :

- Réponse(s) juste(s) : 1 point
- Réponse(s) fausse(s) : -1 point
- Aucune réponse : 0 point



Ecole Nationale d'Architecture

B.P.6372 Rabat-Instituts, Avenue Allal El Fassi, Rabat.  
Tél.:05 37 67 84 51/ 52 fax: 05 37 77 52 76- www.archi.ac.ma

## Culture & Sociétés (8 points)

### Question N°1:

Tahar Ben Jelloun est un écrivain et poète marocain, il a écrit :

- a) la nuit sacrée
- b) le pain nu
- c) l'enfant du sable
- d) Le Temps des erreurs

### Question N°2 :

A quelle civilisation antique doit-on les jeux olympiques ?

- a) Grecque
- b) Egyptienne
- c) Romaine
- d) Sumérienne
- e) Phénicienne
- f) Indus harappéenne

### Question N°3 :

Ouagadougou est la capitale du :

- a) Mali
- b) Niger
- c) côte d'Ivoire
- d) Burkina Faso
- e) Sénégal
- f) Zaïre

### Question N°4 :

En quelle année la dynastie Alaouite a pris les règnes du Maroc ?

- a) 1630
- b) 1766
- c) 1666
- d) 1866
- e) 1855
- f) 1587

### Question N°5 :

Cochez les synonymes du mot généalogie :

- a) Morphologie
- b) Descendance
- c) Filiation
- d) Apologie
- e) Liaison
- f) Naissance

### Question N°6 :

Comment se nomme la peur des espaces larges :

- a) Claustrophobie
- b) Agoraphobie
- c) Xénophobie
- d) Anuptaphobie
- e) Acrophobie
- f) Homophobie

### Question N°7 :

Le nouveau découpage territorial du Royaume introduit :

- a) 8 régions
- b) 10 régions
- c) 12 régions
- d) 16 régions

### Question N°8 :

Les villes impériales Marocaines sont :

- a) Salé
- b) Rabat
- c) Marrakech
- d) Essaouira
- e) Fès
- f) Meknès

## Art (6 points)

### Question N°1:

Quels sont les peintres qui ont séjourné et peint des tableaux célèbres du Maroc ?

- a) Dali
- b) Delacroix
- c) Matisse
- d) Picasso

### Question N°2 :

Célèbre Italien, à la fois peintre et scientifique, il a dessiné l'homme de Vitruve, il est :

- a) Pablo Picasso
- b) Claude Monet
- c) Alberto Giacometti
- d) Leonardo De Vinci
- e) Egon Schiele
- f) Edouard Manet

### Question N°3 :

Quels sont les trois couleurs primaires

- a) Rouge vert bleu
- b) Rouge vert jaune
- c) vert bleu jaune
- d) Rouge jaune bleu
- e) Blanc rouge bleu
- f) jaune noir bleu

### Question N°4 :

Quel art est souvent désigné comme le "neuvième art" ?

- a) La photographie
- b) le cinéma
- c) la télévision
- d) La bande dessinée
- e) la musique
- f) la sculpture

### Question N°5 :

Le Musée d'art moderne Mohamed VI de Rabat est inauguré en : (réponse : e)

- a) 1900
- b) 1995
- c) 2000
- d) 2010
- e) 2014
- f) 2015

### Question N°6 :

Quel est le nom du peintre marocain connu par ses œuvres peintes sur le cuir avec des matériaux naturels ?

- a) Jilali Gharbaoui
- b) Farid Belkahia
- c) Saad Ben Cheffaj
- d) Abdelkrim Belamine
- e) Mahi Binebine
- f) Omar Bouragba

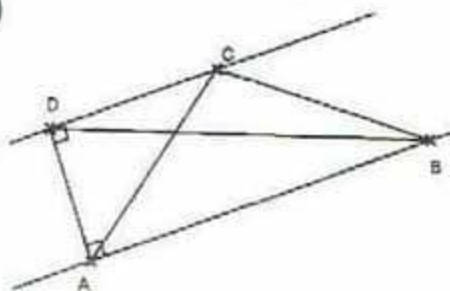
## Géométrie & Perception (10 points)

### Question N°1:

le quadrilatère BADC est un trapèze rectangle.

Le triangle ABD a la même aire que le triangle ABC.

- a) Vrai
- b) Faux



**Question N°2 :**

Un cube dont le dévéléppé est présenté en Figure 1, est observé sous 3 vues dont une est fausse : laquelle des trois vues : a, b ou c est impossible ?

Développé initial du Cube

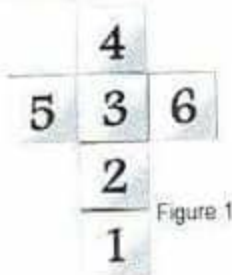


Figure 1



Vue a



Vue b

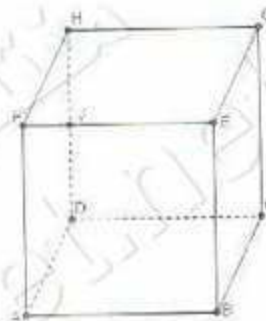


Vue c

**Question N°3 :**

ABCDEFGH est un cube de l'espace  
D'après le dessin on peut dire que :


- a) J appartient à l'intersection de (FE) et (HD)
- b) J n'appartient pas à l'intersection de (FE) et (HD)
- c) J appartient peut-être à l'intersection de (FE) et (HD)



**Question N°4 :**

Si les hauteurs des deux arbres au premier plan mesurent 6M, combien mesurent les deux arbres au dernier plan ?

- a) 1 M
- b) 2M
- c) 3M
- d) 4M
- e) 5M
- f) 6M



**Question N°5 :**



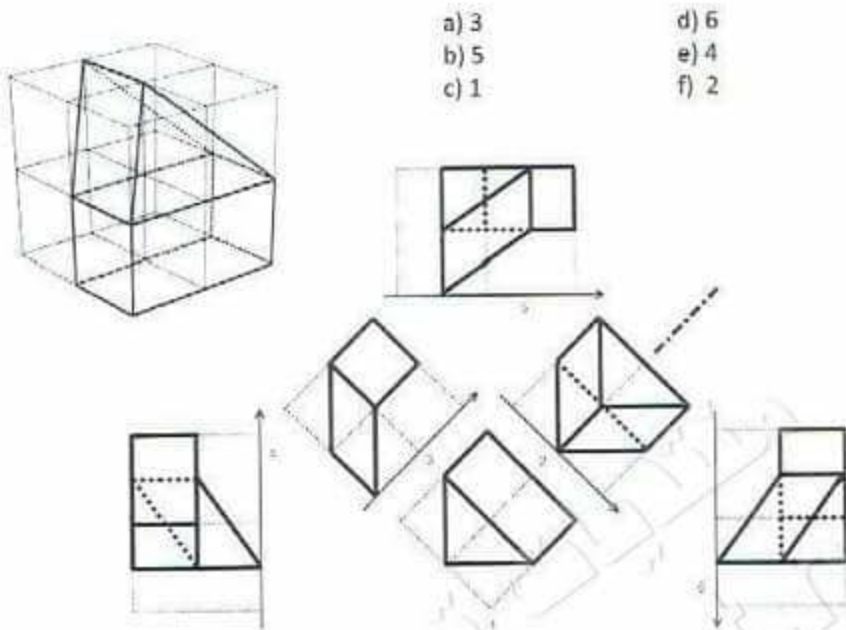
Cette façade correspond à la vue :

- a) 1
- b) 2
- c) 3
- d) 4



Question N°6 :

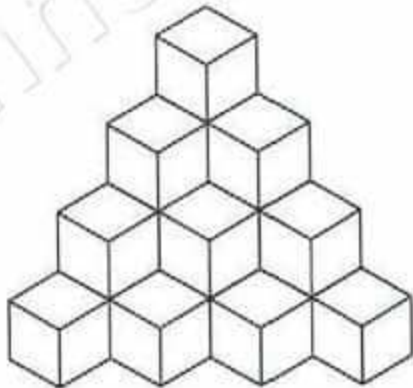
Quelle est la vue de dessus de cette figure ?



Question N°7 :

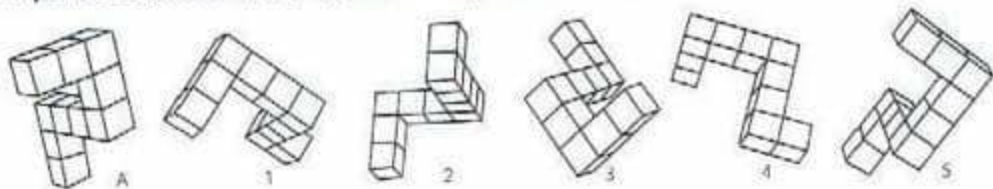
Combien de cubes y a-t-il dans la figure ci-contre :

- a) 10                      d) 18  
 b) 24                      e) 19  
 c) 21                      f) 20



Question N°8 :

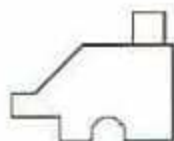
Laquelle des formes 1, 2, 3, 4, 5, est identique à la forme A :



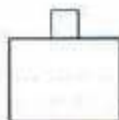
- a) 1                      d) 3                      f) 5  
 b) 2                      e) 4

Question N°9 :


Quelle est la vue du dessus du présent élément ?



a



b



c



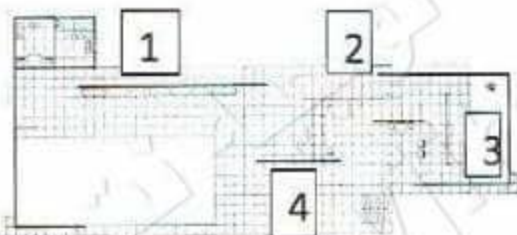
d



Question N°10 :

Sur la photo du pavillon Barcelona de Mies van der Rohe, la cloison indiquée avec la flèche noire se situe sur le plan au :

- a) 1                      c) 3  
b) 2                      d) 4



### Expression Ecrite (10 points)

Rédigez, en un maximum de 5 lignes, un texte cohérent et véhiculant un contenu en utilisant les 5 mots suivants :

- **Construction,**
- **étonnement,**
- **temps,**
- **sentiment,**
- **vécu**

**IMPORTANT :** Veillez indiquer dans votre texte les 5 mots utilisés en les soulignant



Ministère de l'Urbanisme  
Et de l'Aménagement du Territoire  
Ecole Nationale d'Architecture

## Concours d'accès à l'Ecole Nationale d'Architecture Juillet 2015

**Epreuve : Expression graphique**

**Durée : 1h**

**Dessinez dans le cadre réservé dans la feuille du concours ce que évoque pour vous un « Bidonville » ?**

**Critères d'évaluation :**

Respect du thème, Expression graphique, Imagination et Interprétation.

NB : Toute copie ne comportant pas le nom et le numéro du candidat sera éliminée.

